

Beispielklausur Musiktheorie Jazz

NAME: _____

TONLEITERN / MODI

BESTIMMEN ODER NOTIEREN SIE DIE ANGEGEBENE TONLEITERN:


NAME: _____



NAME: _____




A FRYGISCH:



NAME: _____



D 8-TONE SYMMETRISCH HALBTONE-GANZTONE:



TONARTEN

NOTIEREN SIE DIE VORZEICHEN UND BESTIMMEN SIE DIE TONARTEN:

E DUR G MOLL __ DUR __ MOLL

SCHREIBEN SIE DIE FEHLLENDE VORZEICHEN ZU:

LÖSUNGSBLATT MUSIKTHEORIE JAZZ 2020

NAME:

SCHREIBEN SIE DIE FEHLENDE VORZEICHEN ZU (MOLL TONART!):




INTERVALLE BESTIMMEN SIE DIE INTERVALLE: (GENAUES SCHRIFTBILD - KEINE ENHAR. VERWECHSELLUNGEN)



NOTIEREN SIE DIE INTERVALLE VOM GEGEBENEN TON AUFWÄRTS: (GENAUES SCHRIFTBILD)



AKKORDSYMBOLE BESTIMMEN SIE DIE AKKORDE



DREIKLÄNGE NOTIEREN SIE DIE AKKORDE



VIERKLÄNGE (UND ERWEITERUNGEN) NOTIEREN SIE DIE AKKORDFOLGE IN EINFACHEM KLAVIERSATZ

